



## دفترچه سوارات به همراه پاسفنامه تشریحی مرحله اول بیست و هشتمین دوره المپیاد ریاضی سال ۱۳۹۸

مدت آزمون (دقیقه)	تعداد سوالات	
	مساله‌های کوتاه	چند گزینه‌ای
۲۷۰	-	۳۰

استفاده از ماشین حساب ممنوع است.

توضیحات مهم

۱. کد برگه سوالات شما ۱ است. این کد را در محل مربوط روی پاسخ نامه بزنید، در غیر این صورت پاسخ نامه‌ی شما تصحیح نخواهد شد. توجه داشته باشید کد برگه‌ی سوالات شما در بالای هر یک از صفحه‌های این دفترچه نوشته شده است. با کد اصلی که در همین صفحه است یکی باشد.
۲. بلافاصله پس از آغاز آزمون تعداد سوالات داخل دفترچه و وجود همه‌ی برگه‌های دفترچه‌ی سوالات را بررسی نمایید. در صورت وجود هر گونه نقصی در دفترچه، در اسرع وقت مسئول جلسه را مطلع کنید.
۳. یک برگ پاسخ‌نامه در اختیار شما قرار گرفته که مشخصات شما بر روی آن نوشته شده است در صورت نادرست بودن آن، در اسرع وقت مسئول جلسه را مطلع کنید.
۴. برگه‌ی پاسخ‌نامه را دستگاہ تصحیح می‌کند، پس آن را تا نکنید و تمیز نگه دارید و به علاوه، پاسخ هر پرسش را با مداد مشکی نرم در محل مربوط علامت بزنید. لطفاً خانه‌ی مورد نظر را کاملاً سیاه کنید.
۵. در سوال‌های چهار گزینه‌ای به هر پاسخ درست ۳ نمره مثبت و به هر پاسخ نادرست یک نمره منفی تعلق می‌گیرد. در مساله‌های کوتاه به هر پاسخ درست ۸ نمره مثبت تعلق می‌گیرد و پاسخ نادرست نمره منفی ندارد.
۶. همراه داشتن هر گونه کتاب، جزوه، یادداشت و لوازم الکترونیکی نظیر تلفن همراه و لپ‌تاپ ممنوع است. همراه داشتن این قبیل وسایل حتی اگر از آن استفاده نکنید یا خاموش باشد، تقلب محسوب خواهد شد.
۷. آزمون مرحله‌ی دوم برای دانش‌آموزان سال اول و دوم دبیرستان صرفاً جنبه‌ی آزمایشی و آمادگی دارد و شرکت‌کنندگان در دوره‌ی تابستانی از بین دانش‌آموزان سال سوم دبیرستان انتخاب می‌شود.
۸. داوطلبانی می‌توانند دفترچه‌ی سوالات را با خود ببرند که تا پایان آزمون در جلسه حضور داشته‌اند، در غیر این صورت دفترچه باید همراه پاسخ‌نامه تحویل داده شود.

دایره‌ای به شعاع واحد در نظر بگیرید. مساحت این دایره به مساحت چند مثلث متساوی‌الاضلاع به ضلع واحد نزدیک‌تر است؟

ماگ

- ۱- الف) ۶ (ب) ۷ (ج) ۸ (د) ۹ (ه) ۱۰

فرض کنید حاصل ضرب همه اعداد داخل جدول ضرب  $10 \times 10$  برابر  $n$  باشد. بزرگ‌ترین عدد  $m$  که  $\sqrt[m]{n}$  عددی طبیعی باشد چند است؟

ماگ

- ۲- الف) ۲ (ب) ۱۰ (ج) ۱۱ (د) ۲۰ (ه) ۴۰



دانشمندان، منظومه‌ای در کهکشان راه شیری کشف کرده‌اند که دارای یک ستاره، ۹ سیاره و ۱۲۲ قمر است و هر سیاره آن دست کم یک قمر دارد. تحقیقات نشان می‌دهد که جرم ستاره برابر  $98 \times 10^{30} \text{ kg}$  است و مجموع جرم سیاره‌ها برابر جرم ستاره و مجموع جرم قمرهای هر سیاره برابر جرم آن سیاره است. میانگین جرم اجرام این منظومه چقدر است؟

ماگ

- ۳- الف)  $1/5 \times 10^{28} \text{ kg}$  (ب)  $4/5 \times 10^{28} \text{ kg}$  (ج)  $6/6 \times 10^{28} \text{ kg}$  (د)  $5/94 \times 10^{28} \text{ kg}$  (ه) اطلاعات موجود کافی نیست.

چهار میله به طول‌های ۵، ۳، ۷ و ۴ متر به همین ترتیب به هم لولا شده‌اند و ابتدای میله اول هم به انتهای میله چهارم لولا شده است. اگر میله‌ها بتوانند آزادانه در یک صفحه حول لولاهایشان بچرخند، فاصله لولای بین میله‌های ۵ متری و ۴ متری تا لولای مقابل چند متر می‌تواند باشد؟

ماگ

- ۴- الف) هر مقدار بین ۳ و ۸ (ب) هر مقدار بین ۱۲ و ۱۱ متر (ج) هر مقدار بین ۲ و ۸ متر (د) هر مقدار بین ۳ و ۱۱ متر (ه) هر مقدار بین ۲ و ۳ متر و هر مقدار بین ۸ و ۱۱ متر

یک امتحان ۱۰۰ نمره‌ای از دانش‌آموزان دو کلاس الف و ب گرفته شده است. هر کلاس ۵۰ دانش‌آموز دارد. پس از اعلام نتایج، مشخص شد که میانگین نمرات کلاس الف از میانگین نمرات کلاس ب بیشتر است. حداکثر چند دانش‌آموز در کلاس ب هستند که نمره‌ی آن‌ها از همه‌ی دانش‌آموزان کلاس الف بیشتر است؟

ماگ

- ۵- الف) ۱ (ب) ۲۵ (ج) ۴۹ (د) ۵۰ (ه) امکان ندارد دانش‌آموزی از کلاس ب، نمره‌اش از همه دانش‌آموزان کلاس الف بیشتر باشد

مهندس ناظر تونل توحید در اولین شنبه بعد از آغاز کار از پروژه تونل توحید بازدید کرده است. از آن روز به بعد برنامه بازدید وی از تونل به این شکل بوده است: فردای همان روز، یعنی یک‌شنبه، از پروژه مجدداً بازدید کرده است و در ادامه هر بار یک روز به فاصله بین بازدیدها اضافه کرده است. صدمین بازدید در چه روزی از هفته انجام شده است؟

ماگ

- ۶- الف) شنبه (ب) یک‌شنبه (ج) دوشنبه (د) سه‌شنبه (ه) چهارشنبه

شخصی در اصفهان زندگی می‌کند و می‌خواهد از سه شهر تبریز، مشهد مقدس و یزد دیدن کند و به شهر اصفهان بازگردد. به طوری که در هر یک از این سه شهر یک شب بماند. وسایل نقلیه بین این سه شهر اتوبوس، قطار و هواپیما است. اتوبوس و قطار هر روز و هواپیما تنها در روزهای زوج موجود است. اگر این شخص سفر خود را در روز شنبه آغاز کند، به چند حالت می‌تواند این سفر را انجام دهد؟ (توجه کنید که این شخص به هر ترتیبی می‌تواند به این سه شهر سفر کند.)

ماگ

- ۷- الف) ۳۶ (ب) ۷۲ (ج) ۱۰۸ (د) ۱۲۰ (ه) ۲۱۶

۸- چند عدد ۸ رقمی وجود دارد که حاصل ضرب ارقامش ۹۸۰۰ باشد؟

ماگ

- الف) ۱۶۸۰ (ب) ۵۰۴۰ (ج) ۸۴۰۰ (د) ۱۰۰۸۰ (ه) ۱۲۰۹۶۰

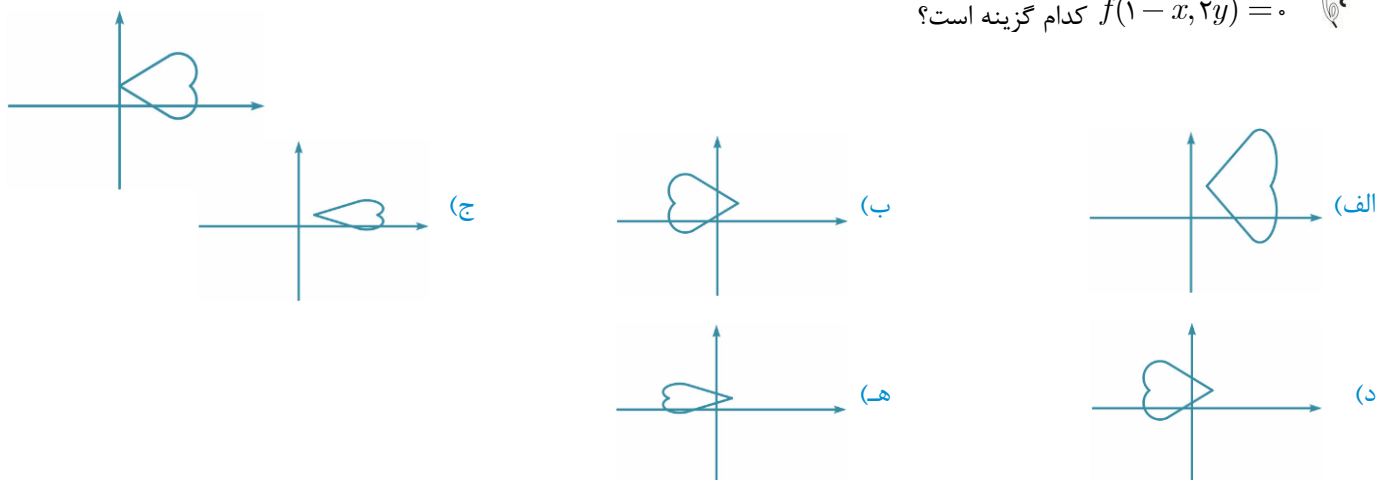
۹- فرض کنید  $a$  عددی گنگ باشد. کدام یک از گزاره‌های زیر لزوماً درست است؟

- (الف) دست کم یکی از  $a^3$  و  $a^4 - 1$  گنگ است.  
 (ب) دست کم یکی از  $a^3 - 1$  و  $a^6$  گنگ است.  
 (ج) دست کم یکی از  $a^2$ ،  $a^3$  و  $a^5$  گویا است.  
 (د)  $a^2$  و  $a^3 - 1$  گنگ هستند.  
 (ه) حداکثر یکی از  $a^2 + 1$  و  $a^4$  گنگ است.

۱۰- تعداد اعداد طبیعی بین ۵۰۰۰ و ۱۰۰۰۰ که عامل اولی به غیر از ۲ و ۳ نداشته باشد چندتا است؟

- (الف) ۶ (ب) ۹ (ج) ۱۴ (د) ۲۰ (ه) ۸۳۳

۱۱-  $f(x, y)$  تابعی دو متغیره است و شکل روبه‌رو مجموعه‌ی نقاط در صفحه  $(x, y)$  است که  $f(x, y) = 0$ . مجموعه نقاط  $(x, y)$  که  $f(1-x, 2y) = 0$  کدام گزینه است؟



۱۲- ظرفی مکعب شکل به ضلع ۶ سانتی‌متر را تا نصفه پر از آب کرده‌ایم. اگر این ظرف را به آرامی طوری کج کنیم که یک ضلع کف روی زمین باقی بماند و کف آن با زمین زاویه ۶۰ درجه بسازد، چند سانتی‌متر مکعب آب بیرون می‌ریزد؟

- (الف)  $108 - 36\sqrt{3}$  (ب)  $216 - 12\sqrt{3}$  (ج)  $108 - 9\sqrt{3}$  (د)  $216 - 18\sqrt{3}$  (ه) اصلاً آبی نمی‌ریزد.

۱۳- معادله  $y^3 - 2x^2 = 1388$  در مجموعه‌ی اعداد صحیح چند جواب دارد؟

- (الف) ۰ (ب) ۱ (ج) ۲ (د) ۳ (ه) بی‌نهایت

۱۴- چند عدد چهاررقمی وجود دارد که هر رقم آن از سمت چپ کوچک‌تر باشد و اگر ترتیب ارقام آن را برعکس کنیم، تفاضل این دو عدد ۶۱۷۴ می‌شود؟

- (الف) ۱ (ب) ۸ (ج) ۱۰ (د) ۱۲ (ه) ۲۱

۱۵- فرض کنید مقدار تابع  $f(x) = -x^2 + bx + c$  همواره کمتر یا مساوی ۲ باشد. اگر این تابع دو ریشه‌ی حقیقی داشته باشد، فاصله ریشه‌های آن حداکثر چقدر است؟

- (الف) ۲ (ب) ۴ (ج) ۸ (د)  $\sqrt{2}$  (ه)  $2\sqrt{2}$

۱۶- می‌گوییم یک عدد در مبنای  $a$  کاهشی است در صورتی که اگر آن را در مبنای  $a$  بنویسیم، هیچ رقمی از سمت چپ خود بزرگ‌تر نباشد. چند عدد طبیعی کوچک‌تر از ۱۰۲۴ وجود دارد که هم در مبنای ۲ و هم در مبنای ۴ کاهشی باشد؟

- (الف) ۱۰ (ب) ۳۰ (ج) ۳۵ (د) ۴۰ (ه) ۵۵

چند زوج مرتب  $(x, y)$  از اعداد طبیعی کوچکتر از ۱۰۱ وجود دارد که  $2x + 7y$  بر  $x + y$  بخش پذیر باشد؟

- (الف) ۵۰ (ب) ۷۸ (ج) ۱۰۰ (د) ۱۱۶ (ه) ۲۰۰

-۱۷

ضلع  $AB$ ، از مثلث  $ABC$  را از طرف  $B$  به اندازه‌ی خودش تا  $P$  ادامه می‌دهیم. ضلع  $AC$  را هم از طرف  $C$  به اندازه دو برابر خودش تا نقطه‌ی  $Q$  امتداد می‌دهیم. اگر  $M$  وسط  $PQ$  باشد، مساحت مثلث  $MBC$  چند برابر مساحت مثلث  $ABC$  است؟

- (الف) ۱ (ب)  $\frac{1}{25}$  (ج)  $\frac{1}{5}$  (د)  $\frac{1}{75}$  (ه) ۲

-۱۸

می‌خواهیم اعداد ۱ تا ۱۰ را، بدون تکرار، در جدول زیر بنویسیم به طوری که هر عدد هم از عدد سمت راستش و هم از عدد پایینش کوچکتر باشد. این کار به چند طریق ممکن است؟



- (الف) ۳۴ (ب) ۳۵ (ج) ۳۶ (د) ۴۴ (ه) ۴۵

-۱۹

فرض کنید عدد طبیعی  $n$  روی تخته سیاه نوشته شده است. این عدد را پاک می‌کنیم و به جای آن عدد  $2^a - 2^b + n$  را می‌نویسیم که در آن  $a$  بزرگ‌ترین عددی است که  $n$  به  $2^a$  بخش پذیر است و  $b$  کوچک‌ترین عددی است که  $n < 2^b$ . اگر در ابتدا عدد ۴۲ نوشته شده باشد بعد از ۱۱۳ بار انجام این کار چه عددی روی تخته خواهد بود؟

- (الف)  $7 \times 2^{116}$  (ب)  $2^{117} - 184$  (ج)  $9 \times 2^{117}$  (د)  $2^{113} + 42$  (ه)  $2^{118} - 184$

-۲۰

فرض کنید  $ABC$  یک مثلث قائم‌الزاویه متساوی‌الساقین باشد که  $AB$  وتر آن است. مورچه‌ای داخل مثلث است وی ابتدا به سمت نقطه  $A$  می‌رود تا جایی که فاصله‌اش تا آن نقطه نصف شود. سپس به سمت نقطه  $B$  می‌رود تا جایی که فاصله‌اش تا آن نقطه نصف شود و این دو حرکت را متناوباً تکرار می‌کند. بعد از ۲۰ مرحله انجام این کار مورچه به کدام نقطه نزدیک‌تر است؟

- (الف)  $A$  (ب)  $B$  (ج)  $C$  (د) وسط وتر  $AB$  (ه) بستگی به مکان اولیه مورچه دارد.

-۲۱

در یک ستون ۲۵۷ سرباز ایستاده‌اند. فرمانده دستور می‌دهد که نفراتی که در مکان‌های فرد قرار گرفته‌اند به همان ترتیب از صف خارج شوند، نفرات دیگر با حفظ ترتیب جای آن‌ها را پر کنند و در نهایت نفرات از صف خارج شده به همان ترتیب به انتهای صف بروند. اگر فرمانده ۴۱ مرتبه‌ی دیگر این دستور را تکرار کند سربازی که در نهایت نفر اول صف شده در ابتدا نفر چندم بوده است؟

- (الف) ۱ (ب) ۱۶ (ج) ۱۲۸ (د) ۲۵۳ (ه) ۲۵۵



-۲۲

به چند صورت می‌توان یک چندجمله‌ای از درجه‌ی پنج ساخت که ضرایب آن، با ترتیبی دل‌خواه، اعداد ۱، ۲، ۳، ... و ۶ باشد و به علاوه به چند جمله‌ای  $1 + x + x^2$  بخش پذیر باشد؟ (بخش پذیر بودن یک چندجمله‌ای به چندجمله‌ای  $1 + x + x^2$  یعنی آن را بتوان به صورت ضرب چند جمله‌ای  $1 + x + x^2$  و یک چندجمله‌ای دیگر نوشت.)

- (الف) ۱ (ب) ۴۸ (ج) ۱۲۰ (د) ۳۶۰ (ه) چنین چندجمله‌ای وجود ندارد.

-۲۳

بزرگ‌ترین عدد حقیقی  $k$  را بیابید که برای هر عدد مثبت  $a$  با شرط  $a - \frac{1}{a} \geq 1$ ، داشته باشیم  $a^3 - \frac{1}{a^3} \geq k(a - \frac{1}{a})$ .

- (الف) ۲ (ب)  $\sqrt{3}$  (ج) ۴ (د)  $4\sqrt{3}$  (ه) ۵

-۲۴

تویی به شعاع ۲۰ سانتی‌متر روی سطح زمین قرار دارد. بالاترین نقطه توپ را علامت می‌زنیم. پس از آن توپ را به اندازه  $25\pi$  سانتی‌متر به سمت شرق و سپس به اندازه  $25\pi$  سانتی‌متر به سمت شمال می‌غلطانیم. در نهایت ارتفاع علامت از سطح زمین چند سانتی‌متر است؟

- (الف)  $20 - 10\sqrt{2}$  (ب) ۲۰ (ج)  $20 + 5\sqrt{2}$  (د)  $20 + 10\sqrt{2}$  (ه) ۳۰

-۲۵



- ۲۶- **ماف** به چند طریق می‌توان جدول  $1388 \times 1388$  را با اعداد ۱ تا ۶ پر کرد. به طوری که اگر کاشی به شکل روبه‌رو را بر روی چهار خانه از جدول قرار دهیم. مجموع ۴ عدد زیر کاشی مضربی از ۶ باشد؟ (کاشی را می‌توان چرخاند یا پشت و رو کرد).
- الف) ۸      ب) ۱۰      ج) ۱۲      د) ۱۶      ه) ۲۰

- ۲۷- **ماف** کدام گزینه درباره سه عدد زیر صحیح است؟ در عبارتی که برابر  $A$  است  $500$  بار ۲ و  $500$  بار ۴ ظاهر شده است و در عبارتی که برابر  $B$  است نیز همین طور است. در عبارتی که برابر  $C$  است  $2000$  بار ۲ ظاهر شده است؟

$$C^{2^{2000 \cdot 2}}, B = 4^{2^{2000 \cdot 2}}, A = 2^{4^{2000 \cdot 2}}$$

ج)  $C > A > B$

ب)  $B > A > C$

الف)  $A > B > C$

ه)  $B > C > A$

د)  $C > B > A$

- ۲۸- **ماف** در چهارضلعی محدب  $ABCD$ ،  $\angle DAB = 110^\circ$ ،  $\angle BCD = 125^\circ$  و  $AB = AD = 6$ . طول قطر  $AC$  چقدر است؟
- الف) ۵      ب)  $5/5$       ج) ۶      د)  $6/5$       ه) اطلاعات کافی نیست.

- ۲۹- **ماف** یک جورچین (پازل) ساده از ۱۰ قطعه مربعی شکل تشکیل شده است که باید در یک ردیف در کنار هم قرار بگیرند تا تصویری مشخص را درست کنند. فرض کنید مکان‌های سوم و هشتم به درستی پر شده است و از این به بعد در هر مرحله تنها مجازیم قطعه‌ای را سرجایش قرار دهیم که دست کم یکی از قطعات مجاورش قبلاً جای‌گذاری شده باشد. به چند روش مختلف می‌توان ۸ قطعه باقی‌مانده را سرجایش گذاشت؟

ه)  $10080$

د)  $5040$

ج)  $4200$

ب)  $3360$

الف)  $1680$

- ۳۰- **ماف** حداکثر چند دایره در فضا می‌توان قرار داد به طوری که هر دو تا هم‌دیگر را در دو نقطه قطع کنند، هیچ سه تایی از یک نقطه عبور نکنند و هیچ دو تایی در یک صفحه قرار نداشته باشند؟
- الف) ۳      ب) ۴      ج) ۶      د) ۱۲      ه) بی‌نهایت

## کلید سوالات

۱	هـ د ج ب الف	۲۱	هـ د ج ب الف	۴۱	هـ د ج ب الف
۲	هـ د ج ب الف	۲۲	هـ د ج ب الف	۴۲	هـ د ج ب الف
۳	هـ د ج ب الف	۲۳	هـ د ج ب الف	۴۳	هـ د ج ب الف
۴	هـ د ج ب الف	۲۴	هـ د ج ب الف	۴۴	هـ د ج ب الف
۵	هـ د ج ب الف	۲۵	هـ د ج ب الف	۴۵	هـ د ج ب الف
۶	هـ د ج ب الف	۲۶	هـ د ج ب الف	۴۶	هـ د ج ب الف
۷	هـ د ج ب الف	۲۷	هـ د ج ب الف	۴۷	هـ د ج ب الف
۸	هـ د ج ب الف	۲۸	هـ د ج ب الف	۴۸	هـ د ج ب الف
۹	هـ د ج ب الف	۲۹	هـ د ج ب الف	۴۹	هـ د ج ب الف
۱۰	هـ د ج ب الف	۳۰	هـ د ج ب الف	۵۰	هـ د ج ب الف
۱۱	هـ د ج ب الف	۳۱	هـ د ج ب الف	۵۱	هـ د ج ب الف
۱۲	هـ د ج ب الف	۳۲	هـ د ج ب الف	۵۲	هـ د ج ب الف
۱۳	هـ د ج ب الف	۳۳	هـ د ج ب الف	۵۳	هـ د ج ب الف
۱۴	هـ د ج ب الف	۳۴	هـ د ج ب الف	۵۴	هـ د ج ب الف
۱۵	هـ د ج ب الف	۳۵	هـ د ج ب الف	۵۵	هـ د ج ب الف
۱۶	هـ د ج ب الف	۳۶	هـ د ج ب الف	۵۶	هـ د ج ب الف
۱۷	هـ د ج ب الف	۳۷	هـ د ج ب الف	۵۷	هـ د ج ب الف
۱۸	هـ د ج ب الف	۳۸	هـ د ج ب الف	۵۸	هـ د ج ب الف
۱۹	هـ د ج ب الف	۳۹	هـ د ج ب الف	۵۹	هـ د ج ب الف
۲۰	هـ د ج ب الف	۴۰	هـ د ج ب الف	۶۰	هـ د ج ب الف

راه حل سؤالات مرحله اول بیست و دومین المپیاد ریاضی کشور، سال ۱۳۸۸

گزینه ی [ب] صحیح است.

داریم که:

$$\pi = \text{مساحت دایره به شعاع واحد} \quad \text{و} \quad \frac{\sqrt{3}}{4} = \text{مساحت مثلث به ضلع واحد}$$

بنابراین می‌خواهیم  $n$  ای را بیابیم که  $\left| \pi - n \frac{\sqrt{3}}{4} \right|$  کمینه باشد یا معادل آن  $\left| \frac{4\pi}{\sqrt{3}} - n \right|$  کمینه باشد.

داریم که:

$$\pi \cong 3/1, \sqrt{3} \cong 1/7 \Rightarrow \frac{4\pi}{\sqrt{3}} \cong 7/3$$

پس  $n$  برابر ۷ است.

گزینه ی [د] صحیح است.

ابتدا حاصل ضرب اعداد جدول ضرب  $10^0$  در  $10^0$  را محاسبه می‌کنیم. توجه کنید حاصل ضرب اعداد سطر  $i$  ام برابر است با  $i! \times 10^i$ . در نتیجه حاصل ضرب کل اعداد جدول برابر است با:  $(10!)^{20}$ . اکنون می‌خواهیم ببینیم بزرگترین  $m$  طبیعی که به ازای آن  $\sqrt[m]{(10!)^{20}}$  صحیح است چیست. توجه کنید برای اینکه این امر محقق شود باید توان همه‌ی عوامل اول  $(10!)^{20}$  بر عدد  $m$  بخش پذیر باشد. در نتیجه بزرگترین عدد طبیعی  $m$  با این خاصیت برابر با  $m.m$  توان عوامل اول در  $(10!)^{20}$  است. در نتیجه با توجه به اینکه:

$$(10!)^{20} = 2^{160} \times 3^{80} \times 5^{40} \times 7^{20}$$

در نتیجه بزرگترین  $m$  با خاصیت مذکور برابر است با:  $(20, 40, 80, 160)$ .

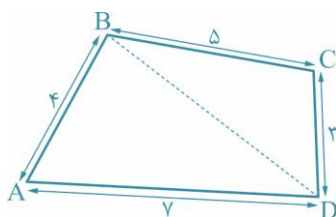
گزینه [ب] صحیح است.

با توجه به این که هر سیاره لااقل یک قمر دارد، می‌توان گفت که مجموع جرم اقمار این منظومه با مجموع جرم سیارات این منظومه برابر است. از طرفی همان طور که گفتیم مجموع جرم سیارات برابر با مجموع جرم ستاره این منظومه است. پس در نتیجه می‌توان گفت که مجموع جرم اجرام این منظومه برابر با ۳ برابر جرم ستاره است. حال با توجه به این که ۱۳۲ جرم در این منظومه قرار دارد، می‌توان گفت که

$$\text{میانگین جرم} = \frac{3 \times 1/98 \times 10^{28}}{132} = 4/5 \times 10^{28}$$

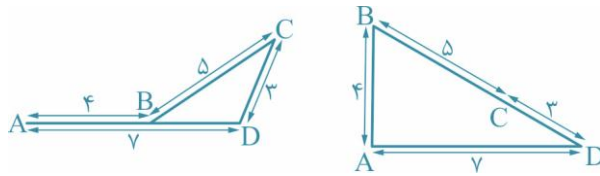
گزینه [الف] صحیح است.

مطابق شکل:



داریم که طبق نامساوی مثلث  $BA + BD \geq AD$  پس  $4 + BD \geq 7$  یا  $BD \geq 3$   
همچنین داریم که  $BC + CD \geq BD$  پس  $8 \geq BD$

پس داریم که  $3 \leq BD \leq 8$  و به سادگی می‌توانید تحقیق کنید که هر مقداری این میان را اتخاذ می‌کند.



گزینه [ج] صحیح است.

۵-

با توجه به این که نمره نفر اول کلاس الف بیشتر یا مساوی میانگین نمرات این کلاس است و این میانگین از میانگین کلاس ب بیشتر است، می‌توان گفت که نمره نفر اول کلاس الف از میانگین نمرات کلاس ب بیشتر است. در نتیجه ممکن نیست که کسی در کلاس ب نباشد که نمره‌اش از نفر اول کلاس الف کمتر باشد. در نتیجه حداکثر ۴۹ نفر در کلاس ب هستند که از تمامی افراد کلاس الف بیشتر است. حال کافی است که برای ۴۹ نیز مثالی ذکر کنیم. فرض کنید ۴۹ نفر در کلاس ب نمره ۱۰۰ کسب کردند و یکی صفر شده باشد. در کلاس الف نیز همگی نمره ۹۹ را کسب کرده باشند. در نتیجه

$$\frac{100 \times 49}{50} < \frac{50 \times 99}{50}$$

در این حالت به وضوح ۴۹ نفر در کلاس ب نمره‌شان از تمامی افراد کلاس الف بیشتر شده است.

گزینه [ب] صحیح است.

۶-

شنبه‌ای که مهندس ناظر برای اولین بار از تونل بازدید کرده را روز صفر بنامید. پس مطابق زیر برنامه بازدیدها را می‌نویسیم:

اولین روز بازدید	روز ۰
دومین بازدید	روز ۱+۰
سومین بازدید	روز ۲+۱+۰
چهارمین	روز ۳+۲+۱+۰
.	.
.	.
.	.
صدمین بازدید	روز ۰+۱+...+۹۸+۹۹

پس صدمین بازدید در روز  $4950 = \frac{99 \times 100}{2} = 0 + 1 + 2 + \dots + 99$  انجام می‌شود داریم که باقی‌مانده ۴۹۵۰ بر ۷ برابر ۱ است لذا

این بازدید در یک روز بعد از شنبه یعنی یک‌شنبه صورت می‌گیرد.

گزینه [هـ] صحیح است.

۷-

این فرد در روز اول به یکی از ۳ شهر تبریز، مشهد مقدس یا شیراز سفر می‌کند. پس مسیر مسافرتش در روز اول به سه طریق مشخص می‌شود. این مسافرت نیز به وسیله هواپیما، قطار یا اتوبوس صورت گیرد. پس به ۳ طریق می‌تواند وسیله مورد نظرش را انتخاب کند. در روز دوم با دو وسیله می‌تواند مسافرت کند و از شهر اول به یکی از دو شهر باقی‌مانده می‌تواند سفر کند. در روز سوم با سه وسیله به شهر باقی‌مانده سفر می‌کند. در روز چهارم نیز با دو وسیله می‌تواند به اصفهان بازگردد. در نتیجه تعداد راه‌های مسافرت او برابر اصل ضرب برابر است با:

$$3 \times 3 \times 2 \times 2 \times 3 \times 1 \times 2 \times 1 = 216$$



## گزینه [ج] صحیح است.



-۸

با تجزیه  $9800$  به عوامل اول خواهید یافت که  $9800 = 2^3 \times 5^2 \times 7^2$ . در نتیجه با توجه به این که ارقام از  $0$  تا  $9$  هستند، لزوماً از هر کدام از  $5$  و  $7$  دو مرتبه استفاده می‌شود. حال برای ایجاد عامل  $2^3$  سه راه وجود دارد:

(الف) از یک  $8$  استفاده کنیم و در نتیجه باید برای بقیه ارقام از  $1$  استفاده شود. به  $\binom{8}{2}$  طریق می‌توان جایگاه  $7$ ها را مشخص کرد. سپس به  $\binom{6}{2}$  طریق می‌توان جایگاه  $5$ ها را مشخص کرد و در آخر به  $4$  طریق می‌توان جایگاه  $8$  را مشخص کرد. پس در این حالت  $1680$  عدد  $8$  رقمی داریم.

(ب) از یک  $4$  استفاده کنیم و یک  $2$ . به  $\binom{8}{2}$  طریق می‌توان جایگاه  $7$ ها را مشخص کرد. سپس به  $\binom{6}{2}$  طریق می‌توان جایگاه  $5$ ها را مشخص کرد و به  $4$  طریق و به  $3$  طریق جایگاه  $2$  را مشخص می‌کنیم. پس در این حالت  $5040$  عدد  $8$  رقمی داریم.

(ج) از  $3$  عدد  $2$  استفاده می‌کنیم. به  $\binom{8}{2}$  طریق می‌توان جایگاه  $7$ ها را مشخص کرد. سپس به  $\binom{6}{2}$  طریق می‌توان جایگاه  $5$ ها را مشخص کرد و به  $\binom{4}{2}$  طریق می‌توان جایگاه  $2$ ها را مشخص کرد. پس در این حالت  $1680$  عدد  $8$  رقمی داریم.

در نتیجه در کل  $8400$  عدد  $8$  رقمی با این خاصیت وجود دارد.

## گزینه [الف] صحیح است.



-۹

ابتدا ثابت می‌کنیم الف همواره درست است. فرض کنید  $a$  گنگ باشد ولی  $a^2$  و  $a^4 - 1$  گویا باشند. در این صورت  $a^4$  هم گویا است. علاوه بر آن  $a = \frac{a^4}{a^3}$  و  $a^3 \neq 0$ . در نتیجه تقسیم دو عبارت گویا برابر با عبارتی گنگ شده در حالی که می‌دانیم حاصل تقسیم دو عدد گویا عددی گویاست. این تناقض است.

راه حل دیگری هم برای اثبات مسئله وجود دارد و آن ارائه مثال نقض برای بقیه گزینه‌هاست.

برای  $b$  کافی است  $a = \sqrt[3]{2}$  را در نظر بگیرید.

برای  $c$  کافی است  $a = \sqrt[4]{2}$  را در نظر بگیرید.

برای  $d$  کافی است  $a = \sqrt{2}$  را در نظر بگیرید.

برای  $h$  کافی است  $a = \sqrt[5]{2}$  را در نظر بگیرید.

پس گزینه الف صحیح است.

## گزینه [ب] صحیح است.



-۱۰

توجه کنید سوال به دنبال تعداد اعداد به فرم  $3^m \times 3^n$  ای می‌گردد. که بین  $5000$  و  $10000$  قرار دارند و نه خود اعداد. توجه کنید که برای هر  $n$  حداکثر یک  $m$  به دست می‌آید که  $5000 < 3^m \times 3^n < 10000$  (اگر دو  $m$  به دست آید یعنی اینکه یک عدد و دو برابرش در بازه  $(5000, 10000)$  قرار گرفته‌اند که این امکان ندارد). علاوه بر این می‌خواهیم نشان دهیم برای هر  $n$  صحیح و نامنفی که  $3^n < 10000$  باشد  $m$  ای پیدا می‌شود که  $5000 < 3^m \times 3^n < 10000$ . برای این کار ابتدا  $m = 0$  را در نظر می‌گیریم. اگر عدد  $3^n$  از  $5000$  بیشتر باشد که چیزی که می‌خواستیم یافته‌ایم در غیر این صورت  $m = 1$  در نظر گرفته می‌شود. اکنون دقت کنید که امکان ندارد که  $2 \times 3^n > 10000$  زیرا در این صورت  $3^n$  بزرگتر از  $5000$  وده که می‌دانیم این‌گونه نبوده است. در نتیجه  $2 \times 3^n < 10000$  و اگر این عدد

از ۵۰۰۰ بیش تر باشد مسئله حل است. در غیر این صورت  $m = 2$  را در نظر می‌گیریم و روند فوق را ادامه می‌دهیم. توجه کنید که این روند متوقف می‌شود زیرا به جایی می‌رسیم که  $2^u > 10000 \geq 3^u \times 2^u$ . وقتی روند متوقف شد  $m$  را یافته‌ایم و این  $m$  هم یکتاست. در حقیقت ما ابتدا یک عدد کوچکتر از ۱۰۰۰۰ در نظر می‌گیریم و در هر مرحله آن را دو برابر می‌کنیم. این روند را آن قدر ادامه می‌دهیم تا اولین مرحله‌ای که از ۱۰۰۰۰ بیش تر شویم. اگر مرحله‌ی قبل از این مرحله را در نظر بگیریم حتماً عددمان در این مرحله چیزی بین ۵۰۰۰ تا ۱۰۰۰۰ بوده است.

در نتیجه جواب مسئله برابر است با تعداد اعداد صحیح و نامنفی  $m$  که  $3^m < 10000$  که با یک بررسی ساده می‌بینیم که ۹ عدد  $m$  در رابطه بالا صدق می‌کنند یعنی اعداد صحیح از ۰ تا ۸. پس گزینه ب صحیح است.

گزینه [هـ] صحیح است.

فرض کنید که  $1 - x = u$  و  $2y = v$  باشند در این صورت  $f(u, v) = 0$  در نتیجه مجموعه جوابی که برای  $u, v$  به دست می‌آید

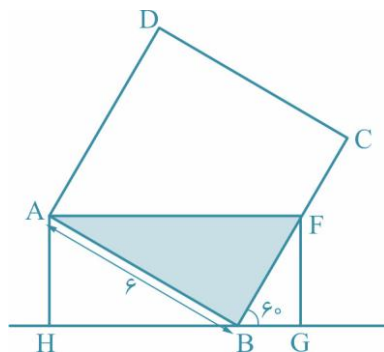
همان شکلی است که در فرض مسئله داده شده است. اکنون

$$\begin{cases} x = 1 - u \\ y = \frac{v}{2} \end{cases}$$

در نتیجه برای به دست آوردن مجموعه نقاط خواسته شده باید ابتدا نموداری که در مسئله داده شده است را نسبت به محور  $y$ ها قرینه کنیم. سپس یک واحد به سمت راست انتقال دهیم. در پایان هم باید با یک تجانس به نسبت  $\frac{1}{2}$  مختص دوم همه‌ی نقاط را نصف کنیم (به نوعی نمودار را جمع کنیم). اگر این کارها را انجام دهیم به سادگی معلوم است که گزینه (هـ) جواب مسئله است.

گزینه [الف] صحیح است.

ابتدا  $3 \times 6 \times 6 = 108$  سانتی‌متر مکعب آب درون مکعب قرار دارد. شکل زیر نمای کناری مکعب بعد از کج شدن است:



$$\begin{aligned} FG = AH = 6 \sin(30^\circ) &= 3, GH = BH + BG = AH \cdot \cot(30^\circ) + FG \cdot \tan(30^\circ) \\ &= 3(\sqrt{3} + \frac{1}{\sqrt{3}}) = 4\sqrt{3} \end{aligned}$$

پس حجم آب باقی مانده برابر است با:

$$6 \times (\text{مساحت مثلث } ABF) = 6 \times \frac{3 \times 4\sqrt{3}}{2} = 36\sqrt{3}$$

داریم که  $36\sqrt{3} < 108$  پس آب بیرون می‌ریزد و حجم آب بیرون ریخته شده برابر  $108 - 36\sqrt{3}$  است.

گزینه [الف] صحیح است.

-۱۳

توجه کنید که ۱۳۸۸ بر ۴ بخش پذیر است اما بر ۸ بخش پذیر نیست. طبقه معادله  $y^3 = 2x^3 + 1388$ ، نتیجه می گیریم  $y^3$  زوج است. پس  $y$  نیز زوج است. در نتیجه  $y^3$  بر ۸ بخش پذیر است. حال عبارت  $y^3 - 1388$  بر ۴ بخش پذیر است. در نتیجه لزوماً  $x^3$  زوج است. پس  $x$  نیز زوج است و  $2x^3$  بر ۸ بخش پذیر است. در نتیجه  $y^3 - 2x^3$  نیز بر ۸ بخش پذیر است که این گونه نیست. زیرا ۱۳۸۸ بر ۸ بخش پذیر نیست.

گزینه [د] صحیح است.

-۱۴

راه اول:

 فرض کنید  $abcd$  عددی چهار رقمی با این خاصیت باشد. به راحتی می توان دید که

$$\begin{aligned} \overline{abcd} - \overline{dcba} &= 999a + 90b - 90c - 999d = 9(111(a-d) + 10(b-c)) \\ &= 6174 \\ \Rightarrow 111(a-d) + 10(b-c) &= 686 \end{aligned}$$

توجه کنید که

$$686 \equiv 111(a-d) \pmod{10} \Rightarrow 6 \equiv a-d \pmod{10}$$

 پس با توجه به این که  $a > d$  لزوماً  $a - d = 6$  و بنابر رابطه فوق لزوماً  $b - c = 2$ .

پس با توجه به این تساوی ها می توان گفت  $0 \leq d \leq 3$  و  $d < c < 4 + d$  (چرا؟) پس کلاً ۴ انتخاب برای  $d$  و ۳ انتخاب متناظر با آن برای  $c$  داریم. همچنین  $a$  و  $b$  به صورت یکتا با توجه به آن دو مشخص می گردند. در نتیجه به ۱۲ حالت می توان اعداد مطلوب را تولید کرد.

راه دوم:

داریم که

$$a > b > c > d$$

و

$$\overline{abcd} - \overline{dcba} = 6174$$

حال شروط برقراری رابطه بالا را بررسی می کنیم. اولاً چون  $a > d$  پس در محاسبه رقم یکان حاصل عبارت ده بر یک صورت می گیرد پس  $4 = a - d + 10$  پس  $a - d = 6$  همین طور در این مرحله یکی از رقم  $c$  که بزرگتر صف نیز هست کم می شود. پس هنوز داریم که  $b - 1 < c - 1 \leq 0$  پس اینجا نیز باید ده بر یک بکنیم و داریم که

پس  $7 = (c - 1) - b + 10$  پس داریم که  $b - c = 2$  در این مرحله نیز یکی از  $b$  کم می شود ولی باز هم داریم که  $c - 1 \geq b - 1$  پس  $1 = b - 1 - c = 1$  یا  $b - c = 2$  در نهایت هم داریم که برای محاسبه رقم چهارم باید  $a$  را منهای  $d$  کنیم که نتیجه می شود  $a - d = 6$  پس دو شرط  $a - d = 6$  و  $b - c = 2$  لازم و کافی هستند.

با توجه به شرایط اول به سادگی به دست می آید که برای انتخاب  $a$  و  $d$  تنها ۴ حالت وجود دارد و با داشتن  $a$  و  $d$  برای انتخاب  $b$  و  $c$  تنها ۳ حالت وجود دارد. پس در کل  $3 \times 4 = 12$  حالت برای انتخاب  $abcd$  وجود دارد.

گزینه [ه] صحیح است.

-۱۵

توجه کنید  $f$  یک سهمی است که ضریب درجه دوم آن منفی است پس ماکسیمم دارد. همچنین ماکسیمم آن به ازای  $x = -\frac{b}{2a} = \frac{b}{2}$

رخ می دهد. از آن جایی که این مقادیر سهمی باید همواره کمتر از یا مساوی ۲ باشند پس ماکسیمم آن از ۲ نابیشتر است. پس

$$f\left(\frac{b}{2}\right) \leq 2 \Rightarrow -\left(\frac{b}{2}\right) + b\left(\frac{b}{2}\right) + c \leq 2 \Rightarrow b^2 + 4c \leq 8$$

اکنون می‌دانیم که فاصله‌ی ریشه‌ها برابر است با:

$$s = \left| \frac{-b + \sqrt{\Delta}}{-2} + \frac{-b - \sqrt{\Delta}}{-2} \right| = \sqrt{\Delta} = \sqrt{b^2 + 4c} \leq \sqrt{8} = 2\sqrt{2}$$

در نتیجه کافی است مثالی ارائه دهیم. توجه کنید هر دو عدد حقیقی  $b, c$  که برای آن‌ها  $b^2 + 4c = 8$  جواب هستند و مثال مورد نظر را می‌توانید بسازید. پس گزینه (ه) صحیح است.

### گزینه‌ی [ج] صحیح است.

توجه کنید از آنجایی که عدد در مبنای ۲ فقط از ۰ و ۱ تشکیل شده است در نتیجه یک عدد در این مبنا کاهشی است اگر به فرم  $000\dots 100\dots 1111$  باشد که در این عدد  $111$  بار ۱ و  $11$  بار صفر استفاده شده است. از آنجایی که ما فقط اعداد طبیعی کمتر از  $1024$  را بررسی می‌کنیم پس اعدادی را بررسی می‌کنیم که برای آن‌ها  $m + n \leq 10, m \geq 1$ . اکنون می‌خواهیم ببینیم چه تعدادی از این اعداد در مبنای ۴ هم کاهشی هستند. توجه کنید برای تبدیل یک عدد از مبنای ۲ به مبنای ۴ از راست شروع می‌کنیم و به جای  $0$  و  $10$  و  $11$  به ترتیب  $0, 1, 2, 3$  قرار می‌دهیم. اگر تعداد ارقام در مبنای ۲ فرد بود در پایان یک عدد باقی می‌ماند که حتماً ۱ است یا معادلاً ۰۱ است که به جای آن ۱ قرار می‌دهیم. در نتیجه اعداد بالا را به دو قسمت تقسیم می‌کنیم:

- اعدادی که تعداد ارقامشان در مبنای ۲ زوج است: توجه کنید همه‌ی این اعداد در مبنای ۴ هم کاهشی هستند (در واقع اگر دو تا دو تا تقسیم کنید و به فرم این اعداد در مبنای ۲ توجه کنید کاملاً مشخص است). فرض کنید بخواهیم تعداد اعضای طبیعی  $2k$  رقمی بر مبنای ۲ که به فرم  $000\dots 100\dots 11$  هستند را بشماریم. توجه کنید تعداد صفرها در این اعداد می‌تواند عددی بین  $0$  تا  $2k-1$  باشد و با تعداد صفرها عدد یکتا معلوم می‌شود. پس دقیقاً  $2k$  تا از این اعداد داریم. در نتیجه تعداد اعداد در این قسمت دقیقاً برابر است با:  $2 + 4 + 6 + 8 + 10 = 30$
  - اعدادی که تعداد ارقامشان در مبنای ۲ فرد است: اگر به مطالبی که در بالا توضیح داده شد دقت کنید می‌بینید که چپ‌ترین رقم این اعداد در مبنای ۴ حتماً است. در نتیجه رقم‌های دیگر این عدد همگی باید  $0$  تا  $1$  باشند (در مبنای ۴). اما هیچکدام از این ارقام نمی‌توانند  $1$  باشند در واقع اگر بخواهد رقمی در مبنای ۴ غیر از این چپ‌ترین  $1, 0$  باشد پس این عدد به فرم  $000\dots 100\dots 11$  در مبنای ۴ است که در آن تعداد  $1$ ها حداقل ۲ است و این به این معناست که این عدد در مبنای ۲ به فرم:  $000\dots 100\dots 101010$  است که از آنجایی که تعداد  $1$ ها در مبنای ۴ حداقل ۲ است پس در مبنای ۲ هم حداقل یک عبارت  $101$  داریم و این با فرم اولیه‌ی این اعداد متناقض است. در نتیجه در بین اعدادی که در مبنای ۲ فرد رقم دارند و به فرم  $000\dots 100\dots 11$  هستند فقط اعدادی می‌توانند مناسب باشند که دقیقاً یک عدد  $1$  در نمایششان داشته باشند. علاوه بر این همه‌ی این اعداد هم مناسب هستند. در نتیجه از آنجایی که تعداد ارقام این اعداد حداکثر  $10$  است پس دقیقاً  $5$  تا از این اعداد داریم (۱رقمی، ۳رقمی، ۵رقمی، ۷رقمی و ۹رقمی در مبنای ۲ و از هر کدام دقیقاً یکی).
- در نتیجه در کل دقیقاً  $30 + 5 = 35$  تا از این اعداد کاهشی در هر دو مبنا داریم و گزینه‌ج صحیح است.

### گزینه‌ی [د] صحیح است.

فرض کنید  $(x, y) = d$  (یعنی  $d$  ب.م.م دو عدد  $x$  و  $y$  باشد) و  $x = dx'$  و  $y = dy'$  در نتیجه:

$$\begin{aligned} x + y \mid 2x + 7y &\Rightarrow d(x' + y') \mid d(2x' + 7y') \Rightarrow x' + y' \mid 2x' + 7y' \\ &\Rightarrow x' + y' \mid 5y' \Rightarrow x' + y' \mid 5 \Rightarrow x' + y' = 5 \end{aligned}$$

توجه کنید که  $(y', x' + y') = 1 \Rightarrow (y', x') = 1$  هر دو طبیعی هستند. در نتیجه روابط خط آخر عبارت فوق صحیح هستند. از طرفی می‌توان بررسی کرد که هر دو عدد طبیعی که دارای شرط فوق باشند (یعنی  $(x + y = 5(x, y))$  در شرط مسئله صدق می‌کنند. پس کافی است تنها تعداد  $(x, y)$  را بشماریم که در شرط فوق صدق کنند و هر دو از  $101$  کمتر باشند. پس ۴ حالت ممکن است:

$$\text{الف- } 1 \leq d \leq 25 \Rightarrow 1 \leq dx' = x < 101 \Rightarrow x' = 4, y' = 1$$

پس به ۲۵ طریق می‌توان  $d$  را انتخاب کرد.

$$\text{ب- } x' = 3, y' = 2 \Rightarrow dx' = x < 10.1 \Rightarrow 1 \leq d \leq 33$$

پس به ۳۳ طریق می‌توان  $d$  را انتخاب کرد.

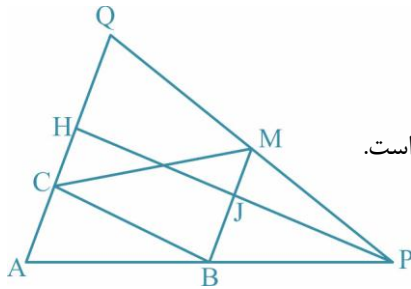
$$\text{ج- } x' = 1, y' = 4 \Rightarrow dy' = y < 10.1 \Rightarrow 1 \leq d \leq 25$$

پس به ۲۵ طریق می‌توان  $d$  را انتخاب کرد.

$$\text{ب- } x' = 2, y' = 3 \Rightarrow dy' = y < 10.1 \Rightarrow 1 \leq d \leq 33$$

پس به ۳۳ طریق می‌توان  $d$  را انتخاب کرد.

در کل جواب برابر است با  $25 + 33 + 33 = 116$ .



گزینه (ج) صحیح است.

منظور از  $S_{ABC}$  مساحت مثلث  $ABC$  است.

داریم که با توجه به شرایط مساله  $MB \parallel AQ$  و همچنین فرض کنید  $PH$  بر  $AQ$  و  $BM$  عمود است. داریم که:

$$MB = \frac{1}{2} AQ, \frac{1}{2} PH = HJ \Rightarrow \frac{S_{MBC}}{S_{APQ}} = \frac{HJ \cdot BM}{PH \cdot AQ} = \frac{1}{4} \Rightarrow S_{MBC} = \frac{1}{4} S_{APQ}$$

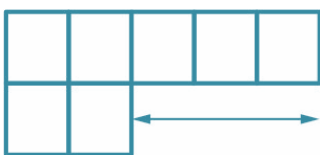
همچنین داریم که:

$$S_{ABC} = \frac{AC}{AQ} S_{AQB} = \frac{AC}{AQ} \frac{AB}{AP} S_{APQ} \Rightarrow S_{APQ} = 6 S_{ABC}$$

پس:

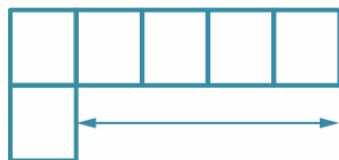
$$S_{MBC} = \frac{1}{4} S_{APQ} = \frac{3}{2} S_{ABC}$$

گزینه (ب) صحیح است.



فرض کنید تعداد حالاتی که می‌توان اعداد ۱ تا  $n$  ( $n \geq 4$ ) را در یک جدول مشابه شکل

زیر چید (به طوری که اعداد در دو سطر و در دو ستون از کوچک به بزرگ چیده شده باشند) برابر باشد با  $b_n$ .



به راحتی بررسی می‌توان کرد که در شکلی مشابه زیر به  $m-1$  طریق می‌توان اعداد ۱ تا  $m$  را جاسازی کرد (به طوری که اعداد در سطر و ستون به صورت صعودی چیده شده باشند).

حال به وضوح عدد  $n$  را در جدول فوق به دو صورت می‌توان جاسازی کرد (انتهای سطر اول و انتهای سطر دوم). حال در حالت اول بقیه جدول را می‌توان به  $b_{n-1}$  طریق اعداد را جاسازی کرد و در حالت دوم  $n-2$  طریق. می‌توان نتیجه گرفت که  $b_n = b_{n-1} + n - 2$ . حال با توجه به این که  $b_4 = 2$ ، نتیجه می‌گیریم:

$$b_n = b_4 + 3 + 4 + \dots + (n-2) = 2 + 3 + \dots + (n-2) = \frac{(n-1)(n-2)}{2} - 1$$

پس  $b_{10} = 35$ .



گزینه [الف] صحیح است.

ابتدا عدد  $n$  را در مبنای ۲ می‌نویسیم و این عملیات را بررسی می‌کنیم.

نشان می‌دهیم که عملیات فوق اولین رقم ناصفر عدد در مبنای دو را ۰ می‌کند و یک به انتهای آن اضافه می‌کند.

چرا که بزرگ‌ترین  $2^a$  ای که  $2^a \mid n$  همان ضریب اولین ۱ در نمایش مبنای ۲ عدد  $n$  است و کوچک‌ترین  $2^b$  که  $2^b < n$  همان ضریب رقمی است که بعد از آخرین یک عدد  $n$  در بسط مبنای ۲ ظاهر می‌شود:

$$n = (0 \ 1 a_1 a_2 \dots a_{u-1} a_u \ 1 0 0 \dots 0)_2$$

$$2^a = (0 \dots 0 1 0 0 \dots 0)_2$$

$$2^b = (1 0 0 0 0 \dots 0)_2$$

$$n + 2^b - 2^a = (1 \ 1 a_1 a_2 \dots a_{u-1} a_u \ 0 0 0 \dots 0)_2$$

بنابراین با این الگو از ۴۲ شروع می‌کنیم و داریم که  $42 = (101010)_2$ :

$$(101010)_2 \quad \text{مرحله ۰}$$

$$(1101000)_2 \quad \text{مرحله ۱}$$

$$(11100000)_2 \quad \text{مرحله ۲}$$

$$(111000000)_2 \quad \text{مرحله ۳}$$

$$(1110000000)_2 \quad \text{مرحله ۴}$$

همان‌طور که مشاهده می‌شود از مرحله ۲ به بعد هر بار عدد فوق دو برابر می‌شود. در مرحله ۲ برابر است با  $2^7 + 2^6 + 2^5$ لذا در مرحله ۱۱۳ یعنی ۱۱۱ مرحله بعد به عدد  $2^{118} + 2^{117} + 2^{116}$  یا  $7 \times 2^{116}$  می‌رسیم.

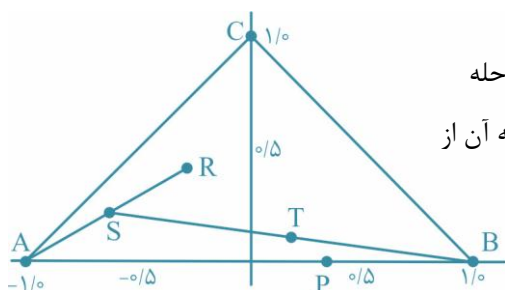
گزینه [د] صحیح است.

نشان می‌دهیم که در هر دو مرحله (یعنی یک مرحله با شماره زوج و بعد یک مرحله

با شماره فرد) فاصله مورچه تا نقطه  $P$  روی خط  $AB$  که فاصله  $P$  تا نقطه  $B$  نصف فاصله آن از $A$  است یک چهارم می‌شود. این نکته را به ۲ راه نشان می‌دهیم:

راه اول:

مطابق شکل مثلث را روی محور مختصات قرار دهید:



اگر مورچه ابتدا در نقطه  $(x_{\tau k}, y_{\tau k})$  قرار داشته باشد بعد از یک مرحله به نقطه  $(x_{\tau k+1}, y_{\tau k+1}) = \left(\frac{x_{\tau k} - 1}{2}, \frac{y_{\tau k}}{2}\right)$  می‌رود و سپس به نقطه

$$(x_{\tau k+1}, y_{\tau k+1}) = \left(\frac{x_{\tau k+1} + 1}{2}, \frac{y_{\tau k+1}}{2}\right) = \left(\frac{\left(\frac{x_{\tau k} - 1}{2}\right) + 1}{2}, \frac{y_{\tau k}}{2}\right) = \left(\frac{x_{\tau k} + 1}{4}, \frac{y_{\tau k}}{4}\right)$$

می‌توانیم بنویسیم:

$$(x_{\tau k+2}, y_{\tau k+2}) = \left(\frac{1}{4}(x_{\tau k} - \frac{1}{4}), \frac{1}{4}(y_{\tau k})\right)$$

پس فاصله مورچه در مرحله  $2k + 2$  از نقطه  $\frac{1}{4}$  برابر یک چهارم فاصله مورچه تا همین نقطه در مرحله  $2k$  است.

راه دوم:

در مراحل فرد مانند این است که تجانس به مرکز  $A$  و نسبت  $\frac{1}{4}$  و در مراحل فرد تجانسی به مرکز  $B$  و نسبت  $\frac{1}{4}$  می‌زنیم.

این تجانس‌ها حرکات مورچه را مشخص می‌کنند. می‌دانیم ترکیب این دو تجانس، تجانس به نسبت  $\frac{1}{4}$  می‌شود. حال کافی است مرکز آن را بیابیم. می‌دانیم که مرکز تجانس تنها نقطه‌ای است که در اثر تجانس ثابت می‌ماند. می‌توانید به سادگی نشان دهید که نقطه  $P$  ثابت می‌ماند لذا مرکز تجانس است. پس مانند بالا اثبات شد که در این دو مرحله فاصله مورچه تا نقطه  $P$  یک چهارم می‌شود. پس به طریق دوم نیز اثبات شد. حال داریم که فاصله مورچه در ابتدا از نقطه  $P$  کمتر از طول  $AB$  است پس بعد از ۲۰ مرحله نیز فاصله آن از  $P$  کمتر از  $\frac{AB}{4^{20}}$  می‌شود و به وضوح به همواره به وسط  $AB$  نزدیک‌تر خواهد بود.

گزینه [د] صحیح است.

راه حل اول:

به وضوح فردی که در ابتدا، در انتهای صف حضور داشته باشد، تا ابد در آخر صف باقی خواهد ماند. توجه کنید که فردی که در حال حاضر نفر  $i$  صف است، پس از دستور فرمانده طبق تابع زیر جایگاهش در صف تغییر می‌کند:

$$\begin{cases} 128 + \frac{i+1}{2} \\ \frac{i}{2} \end{cases}$$

فردی که در نهایت پس از ۴۲ مرتبه دستور فرمانده در ابتدای صف قرار می‌گیرد را علی‌اکبر بنامید. به وضوح علی‌اکبر در مرحله قبل نفر دوم، در مرحله قبل آن نفر چهارم و... بوده است. به همین ترتیب می‌توان گفت که علی‌اکبر پس از ۳۴ دستور فرمانده، نفر ۲۵۶ صف بوده است. در مرحله قبل از این به راحتی می‌توان بررسی کرد که نفر ۲۵۵ صف بوده است. توجه کنید که  $(1111111)_2 = 255$ . در مرحله قبل از این علی‌اکبر در جایگاه ۲۵۳ حضور داشت که  $(1111110)_2 = 253$ . به همین ترتیب اگر ادامه دهیم، هر مرحله که به عقب بازگردیم، دومین یک از سمت راست (در مبنای ۲) تبدیل به صفر خواهد شد. پس می‌توان نتیجه گرفت که بعد از ۲۶ دستور، علی‌اکبر در ابتدای صف حضور داشته باشد. با تکرار این روند باز می‌توان نتیجه گرفت که بعد از دستور دهم نیز علی‌اکبر در جایگاه اول قرار داشته و بعد از دستور دوم در جایگاه ۲۵۶. پس بعد از دستور اول در جایگاه ۲۵۵ قرار گرفته است. در نتیجه در اول کار علی‌اکبر در جایگاه ۲۵۳ صف بوده است. راه حل دوم:

باز هم مانند علی‌اکبر راه همان سربازی که در مرحله ۴۲ در ابتدای صف قرار می‌گیرد بنامید. اگر  $a_i$  مکان یکی از سربازها مثلاً علی‌اکبر در

$$a_i \equiv 2a_{i+1} \pmod{257} \quad (\text{به پیمانه } 257)$$

پس بعد از ۴۲ مرحله داریم که (به پیمانه ۲۵۷)  $a_1 \equiv 2^{42} a_{42}$  چون برای علی‌اکبر داریم  $a_{42} = 1$  پس داریم که:

$$a_1 \equiv 2^{42} \equiv 256^5 \times 4 \equiv (-1)^5 \times 4 \equiv 253 \pmod{257} \quad (\text{به پیمانه } 257)$$

پس علی‌اکبر ابتدا در مکان ۲۵۳ بوده است.

گزینه [ب] صحیح است.

چند جمله‌ای مورد نظر به فرم  $a_0 + a_1x + a_2x^2 + \dots + a_{n-1}x^{n-1} + a_nx^n$  است که ضرایب جایگشتی از اعداد ۱ تا ۶ هستند. اکنون می‌خواهیم این

چندجمله‌ای بر  $x^2 + x + 1$  بخش‌پذیر باشد. توجه کنید که:  $(x^3 - 1) = (x^2 + x + 1)(x - 1)$ . در نتیجه اگر چندجمله‌ای فوق بر

$x^2 + x + 1$  بخش‌پذیر باشد پس چندجمله‌ای  $(a_0 + a_1)x^2 + (a_2 + a_3)x + (a_4 + a_5)$  هم بر  $x^2 + x + 1$  بخش‌پذیر است. اگر به

جای عبارت حاصل باقی‌مانده‌ی آن را در  $x^2 + x + 1$  قرار دهیم آنگاه این باقی‌مانده باید صفر باشد. این باقی‌مانده برابر است با:

$$(a_4 + a_5 - a_0 - a_1)x + (a_2 + a_3 - a_4 - a_5)$$

$$a_4 + a_5 = a_0 + a_1 = a_2 + a_3 = S$$

علاوه بر آن این اعداد جایگشتی از اعداد ۱ تا ۶ هستند پس:

$$a_6 + a_5 + \dots + a_1 = 1 + 2 + \dots + 6 = 21$$

در نتیجه باید  $s = 7$  باشد. حال برای شمردن تعداد این ۶ تایی‌ها بدین نحو عمل کنیم. ابتدا  $a_6$  را به دلخواه به ۶ حالت انتخاب می‌کنیم. از روی  $a_6$  مقدار  $a_5 = 7 - a_6$  به طور یکتا به دست می‌آید. بعد از آن از بین ۴ عدد باقی‌مانده  $a_4$  را به دلخواه تعیین می‌کنیم پس مشابه بالا  $a_4$  به طور یکتا معلوم می‌شود و در پایان از میان ۲ عدد باقی‌مانده به ۲ حالت  $a_3$  را انتخاب می‌کنیم و  $a_3$  به طور یکتا تعیین می‌شود. پس جواب مسئله برابر است با:  $2 \times 4 \times 6 = 48$  و مسئله حل است.

گزینه [ج] صحیح است.

توجه کنید که:

$$a^3 - \frac{1}{a^3} \geq k(a - \frac{1}{a}) \Rightarrow (a - \frac{1}{a})(a^2 + \frac{1}{a^2} + 1) \geq k(a - \frac{1}{a})$$

اما  $a - \frac{1}{a} > 0$  پس با ساده کردن آن از طریق معلوم می‌شود که باید بزرگترین  $k$  حقیقی را بیابیم که برای هر  $a$  مثبت با شرط  $a - \frac{1}{a} \geq 1$  داشته باشیم:

$$a^2 + \frac{1}{a^2} + 1 \geq k \Rightarrow (a - \frac{1}{a})^2 + 3 \geq k$$

اکنون دقت کنید که اگر عدد مثبت  $a$  به نحوی باشد که  $(a = \frac{1 + \sqrt{5}}{2})a - \frac{1}{a} = 1$  در این صورت در رابطه بالا به دست می‌آوریم که  $k \geq 4$ . برای اینکه نشان دهیم ماکزیمم  $k$  و ۴ است تنها کافی است نشان دهیم که برای هر  $a$  با شرط  $a - \frac{1}{a} \geq 1$  داریم  $(a - \frac{1}{a})^2 + 3 \geq 4$  که این هم بدیهی است. پس برای ۴ هم اثبات ارائه کردیم و هم مثالی ارائه کردیم که نشان دهیم از این عدد بزرگتر نمی‌توان یافت. در نتیجه گزینه

• توجه: نکته‌ای که باید به آن توجه کنید این است که هنگامی که به رابطه  $a^2 + \frac{1}{a^2} + 1 \geq k$  می‌رسید اگر از نامساوی حسابی - هندسی

بهره ببرید به این نتیجه می‌رسید که  $a^2 + \frac{1}{a^2} + 1 \geq 3$  پس احتمالاً حدس می‌زنید که شاید بهترین  $k$  همان ۳ باشد. البته این که در تست جواب ۳ وجود ندارد به شما کمک می‌کند تا احساس کنید در قسمتی اشتباه کرده‌اید. اما اگر در گزینه‌ها عدد ۳ وجود داشت توجه به این نکته که شما از فرض  $a - \frac{1}{a} \geq 1$  هیچ استفاده‌ای  $10\sqrt{2} = (20 - 10\sqrt{2}) - 20$  نکرده‌اید می‌توانست راهنمای شما برای پیدا کردن خطا باشد.

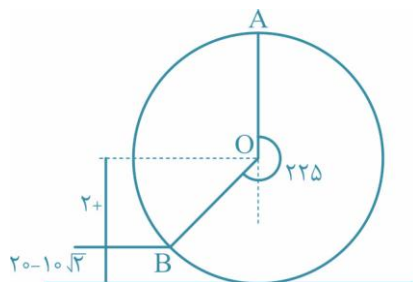
گزینه [هـ] صحیح است.

محیط دایره عظیمه توپ برابر است با  $40\pi$  و توپ  $25\pi$  حرکت کرده است. پس در کل به اندازه  $\frac{25\pi}{40\pi} = \frac{5}{8}$  دور یا  $225$  چرخیده است.

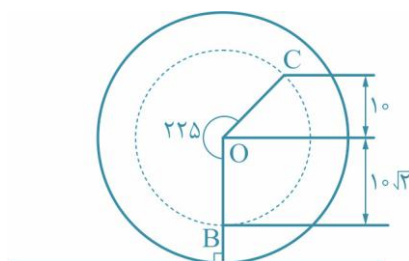
لذا با توجه به اینکه نقطه علامت خورده خود یک دایره عظیمه را می‌پیماید ارتفاع علامت خورده پس از حرکت به سمت شرق برابر  $20 - 10\sqrt{2} = 20 + 20 \cos(225^\circ)$  می‌شود. از اینجا به بعد در حرکت به سمت شمال هم توپ مقدار  $225$  می‌چرخد ولی نقطه علامت خورده روی دایره‌ای ثابت حرکت می‌کند، که شعاع آن برابر است و در ابتدا نقطه مورد نظر در پایین دایره قرار دارد. با چرخش به مقدار  $225$



دیگر نقطه به ارتفاع  $(\cos(225^\circ) \cdot 10 - 20)$  یا ۳۰ سانتی‌متر می‌رسد. در اشکال زیر نمای جانبی کره را در هر یک از این حرکات می‌بینید.



A محل نقطه پیش از حرکت به سمت شرق و B مختصات نقطه بلافاصله پس از اتمام حرکت



A محل نقطه پیش از حرکت به سمت شرق و B مختصات نقطه بلافاصله پس از اتمام حرکت

گزینه [ج] صحیح است.



-۲۶

در شکل زیر دو کاشی روی جدول قرار گرفته است. با توجه به این که باید مجموع اعداد روی کاشی بر ۶ بخش پذیر باشد، لزوماً  $A_p$  و  $A_q$  باید برابر باشند (چرا؟). به کمک این استدلال می‌توان گفت که اعداد نوشته شده در دو خانه‌ای که فاصله عمودی یا افقی آن‌ها ۲ است، برابر است.

A..	B..	A..	B..
C..	D..	C..	D..
A..	B..	A..	B..
C..	D..	C..	D..

به عبارتی اگر سطرها و ستون‌ها را از چپ به راست و از بالا به پایین از ۱ تا ۱۳۸۸ شماره‌گذاری کنیم، خانه‌های با سطر فرد و ستون فرد با هم برابر هستند و این مقدار را A فرض کنید. به همین ترتیب کلیه خانه‌های (فرد، زوج) برابر C، تمام خانه‌های (زوج، فرد) برابر B و تمام خانه‌های (زوج، زوج) برابر D هستند. همچنین با کاشی‌گذاری‌ها، می‌توان ثابت کرد که

$$2B \equiv 2C \pmod{6} \Rightarrow B \equiv C \pmod{3}$$

$$2A \equiv 2D \pmod{6} \Rightarrow A \equiv D \pmod{3}$$

$$6 \mid 2B + A + D \Rightarrow 2 \mid A + D \Rightarrow A \equiv D \pmod{2}$$

$$6 \mid 2D + B + C \Rightarrow 2 \mid B + C \Rightarrow B \equiv C \pmod{2}$$

از روابط فوق می‌توان نتیجه گرفت که  $A=D$  و  $B=C$ . در نتیجه کافی است که

$$6 \mid 2(A+B) \Rightarrow 3 \mid A+B$$

حال A می‌تواند به ۶ حالت انتخاب شود و B متناظر با آن در ۲ حالت می‌شود. پس جواب  $6 \times 2 = 12$  است.



-۲۷

گزینه [ج] صحیح است.

فرض کنید که  $B_n$  و  $A_n$  عباراتی باشند از در آنها از  $\mathbb{N}$  تا  $\mathbb{N}$  و  $\mathbb{N}$  تا  $\mathbb{N}$  استفاده شده باشد و  $C_n$  عبارتی باشد که در آن از  $\mathbb{N}$  تا  $2\mathbb{N}$  استفاده

شده باشد:

$$A_n = 2^{2^{n-1}}, \quad B_n = 4^{2^{n-1}}, \quad C_n = 2^{2^{n-1}}$$

اکنون هدف ما نشان داد نامساوی  $C_n > A_n > B_n$  برای هر عدد طبیعی  $\mathbb{N}$  بزرگتر از ۱ است. اگر این نامساوی را نشان دهیم از قرار دادن  $\mathbb{N}=500$  جواب به دست می‌آید. این حکم را به روش استقرایی نشان می‌دهیم. به راحتی می‌توان این نامساوی را برای حالت پایه یعنی  $\mathbb{N}=2$  چک کرد. اگر نامساوی برای  $\mathbb{N}$  درست باشد برای  $\mathbb{N}+1$  می‌توان نوشت:

$$A_{n+1} = 2^{4^{A_n}} = 2^{2^{2A_n}}, \quad B_{n+1} = 4^{2^{B_n}} = 2^{2^{B_n+1}}, \quad C_{n+1} = 2^{2^{2C_n}}$$

اکنون اگر دقت کنید  $2A_n > 2B_n > B_n + 1$  در نتیجه  $2^{2A_n} > 2^{2B_n+1}$  یا معادله:  $A_{n+1} > B_{n+1}$

اکنون می‌خواهیم  $A_{n+1}, C_{n+1}$  را با هم مقایسه کنیم. ثابت می‌کنیم که  $2^{2C_n} > 2A_n$  و از آن حکم را نتیجه می‌گیریم. توجه کنید که اگر  $\mathbb{N}$  عددی طبیعی باشد  $2^{2^{\mathbb{N}}} > 2\mathbb{N}$  صحیح است. در نتیجه:

$$2^{2^{2C_n}} > 2C_n > 2A_n \Rightarrow 2^{2^{2C_n}} > 2^{2A_n}$$

که از آن نتیجه می‌شود:  $C_{n+1} > A_{n+1}$ .

در نتیجه چیزی که می‌خواستیم ثابت کنیم با استقرار ثابت شد. پس برای  $\mathbb{N}=500$  داریم:

$C > A > B$  و در نتیجه گزینه [ج] صحیح است.

گزینه [ج] صحیح است.

-۲۸

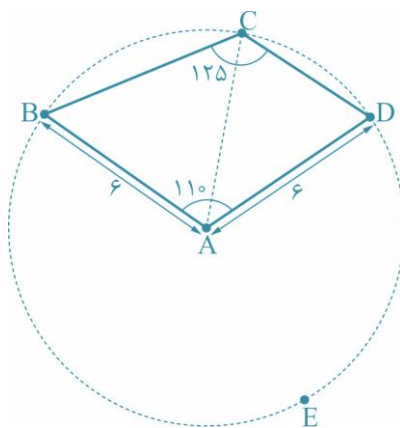


دایره به مرکز  $A$  و شعاع  $6$  را اضافه می‌کنیم. (مطابق شکل) واضح است که  $B$  و  $D$  روی

این دایره قرار دارند. نشان می‌دهیم که  $C$  هم روی این دایره قرار دارد. داریم که کمان  $BED$

برابر  $250^\circ = 110^\circ - 360^\circ$  است و زاویه  $BCD$  هم برابر  $\frac{250^\circ}{2} = 125^\circ$  است. لذا  $BED$

کمان درخور زاویه  $BCD$  است و  $C$  روی دایره قرار دارد. پس  $AC=6$ .



گزینه [ب] صحیح است.

-۲۹



در هر حرکت ما قطعه جورچین را در یکی از سه ناحیه چپ، وسط و راست قرار می‌دهیم.



در اول تعداد روش‌های چیدن قطعات در ناحیه وسط را می‌شماریم. در ۳ مرحله ممکن است قطعات را از سمت چپ پیشروی دهیم یا از سمت راست (مثلاً در مرحله اول ما می‌توانیم یک قطعه مجاور خانه قرمز قرار دهیم یا یک قطعه مجاور خانه آبی). قطعه آخر هم به صورت یکتا قرار خواهد گرفت. پس به ۸ طریق می‌توان ۴ خانه وسط را پر نمود. حال نوبت به چیدن قطعات ناحیه چپ است. در این جا دو قطعه باید قرار بگیرند که لزوماً قطعه خانه ۲ زودتر از قطعه خانه ۱ پر می‌شود. در نتیجه برای ترکیب کردن چیدمان ناحیه چپ و وسط کافی است تعداد راه های قرار دادن دو حرکت بین ۴ حرکت خانه‌های وسط را شمارد. این هم بدین ترتیب است که ما می‌توانیم یکی از ۵ جایگاه ممکن برای قرار دادن این حرکات را به هر دو اختصاص دهیم یا دو محل مختلف اختصاص دهیم که در کل به ۱۵ طریق می‌توان حرکات ناحیه چپ را بین

حرکات ناحیه وسط انجام داد. حال حرکات ناحیه راست را می‌خواهیم در بین ۶ حرکت نواحی چپ و وسط انجام دهیم. با استدلالی مشابه دو حرکت ناحیه راست را به ۲۸ طریق می‌توان دو حرکت را جاسازی کرد  $(\binom{7}{2} + 7)$ . پس در کل به  $8 \times 15 \times 28 = 3360$  طریق می‌توان

جورچین را چید.

توجه کنید که در این سوال از تکنیک ادغام حرکات استفاده شده بود. یعنی ما حرکات لازم برای انجام کارهای مختلف را به طور مناسبی در هم می‌آمیزیم. به همین منظور مسئله را به سه حالت تقسیم کرده و سپس آن‌ها را در هم آمیختیم.

گزینه [هـ] صحیح است.



-۳۰

دقت کنید که اگر شرط هم صفحه بودن وجود نداشت می‌توانستیم بی‌نهایت دایره را با الگوی شکل زیر روی یک صفحه قرار دهیم:



حال مناسب است با همان الگوی بالا بی‌نهایت دایره را روی یک کره بچینیم. به وضوح هر سه شرط مسأله را برآورده کرده‌ایم.

